



T.C.
MİLLÎ EĞİTİM BAKANLIĞI
ÖLÇME, DEĞERLENDİRME VE SINAV HİZMETLERİ GENEL MÜDÜRLÜĞÜ

2022-2023 EĞİTİM VE ÖĞRETİM YILI
Sınavla Öğrenci Alacak Ortaöğretim Kurumlarına
İlişkin Merkezî Sınava Yönelik
Ocak Ayı Örnek Soruları
(SÖZEL BÖLÜM)

- Bu kitapçıkta toplam 25 soru bulunmaktadır.
 - Türkçe : 10 soru
 - T. C. İnkılap Tarihi ve Atatürkçülük : 5 soru
 - Din Kültürü ve Ahlak Bilgisi : 5 soru
 - İngilizce : 5 soru



Türkçe Örnek Soruları

1. Lise yıllarında tanıştı fırça ve tuvalle. Resim öğretmenin verdiği ödevlerle haşır neşir oldu o zamanlar. Resim konusunda tecrübesiz olduğu bu yılları “- - - -” dönemi olarak adlandırdı. Üniversite yıllarında daha bir sarılmıştı resme. Kimseye anlatmadığı duygularını yansıtıyordu çizimleriyle. Bu “- - - -” dönemi pek uzun sürmedi. Rize’ye öğretmen olarak atanınca tanıdı Anadolu’yu. Karadeniz insanını renkler ile anlatmaya başladı burada. Balıkçılar deniz mavisiyle, çay toplayanlar yaprak yeşiliyle bütünleşti. “- - - -” dönemi de böyle geçti. Ömrünün son yıllarında bir hüzün sarmıştı ruhunu. Artık ne insanları resmetti ne de tabiatı. Bu “- - - -” döneminde yalnız iki eser verebildi. Sarı ve kahverenginin baskın olduğu bu eserler, bir vedaydı sanki resme. Yalnızlıklar içinde bir veda...

Bu parçada numaralanmış yerlere metnin anlam akışına göre getirilebilecek en uygun sözler aşağıdakilerin hangisinde verilmiştir?

- | I | II | III | IV |
|----------------|-----------------|-----------------|-----------------|
| A) boş tuval | öze yöneliş | Kuru yapraklar | halkın renkleri |
| B) öze yöneliş | kuru yapraklar | Halkın renkleri | boş tuval |
| C) boş tuval | öze yöneliş | Halkın renkleri | kuru yapraklar |
| D) öze yöneliş | halkın renkleri | Kuru yapraklar | boş tuval |
2. (I) Şu köşedeki kıvrıkcık saçlı çocuğun, kütüphaneye önemli bir sınava hazırlanmak için geldiğini düşünüyorum. (II) Sabah erkenden gelip köşedeki masaya oturuyor, akşama kadar da önündeki kitapları okuyor. (III) Şu orta masada çalışan kısa saçlı kadın, kalın kitaplarını masaya yığıyor; her birine hızlıca bakıp defterine notlar alıyor. (IV) Kalın bir kitabın, dergilerde olduğu gibi hızla karıştırılıp içeriği anlaşılamayacağına göre belli ki bir yerlerde paylaşmak üzere dikkat çekici sözler arıyor.

Bu metinde numaralanmış cümlelerin hangilerinde yorum yapılmıştır?

- A) I ve III B) I ve IV C) II ve III D) II ve IV

3. Deniz dediğin bir tarladır

Gülü gül, diken diken, tohumu tohum
Toprak gibi verimli, toprak gibi cömert
Betine bereketine kurban olduğum

Bu dördülmükteki altı çizili dizede bulunan söz sanatı aşağıdakilerin hangisinde vardır?

- A) Kaçtım şehir şehir çok uzaklara
Boşuna gurbet acısı tattım
- B) Orhan zamanından kalma bir duvar
Onunla bir yaşta ihtiyar çınar
- C) O nesil duymuş akın zevkini rüzgârda bile
Bu duyuş varmış akınlardaki atlarda bile
- D) Kabaran bir çarpıntı oluyor şehir
Uyusam bir dağın benimle uyuduğu oluyor

4. Babam, elinde bir hediye paketiyle geldiğinde henüz dördüncü sınıfta okuyordum. Parlak, mavi hediye paketini heyecanla açıp içindeki kitabın kapağına dokundum. Beyaz bir zemin üzerinde küçücük bir dünya ve dünyanın üzerinde dallarında kıpkırmızı elmalar olan ufacık bir ağaç... Ufacık bir ağaç meyve verir mi hiç, diye düşündüm. Biraz araştırınca verebildiğini öğrendim. O gün fark ettim ki insan, her şeyi doğru değerlendirdiğini zannediyor.

Bu metinle ilgili aşağıdakilerden hangisi söylenemez?

- A) Mecazlı ifadeler vardır.
B) Betimleyici unsurlar kullanılmıştır.
C) Öyküleyici anlatımdan yararlanılmıştır.
D) Genellemeye yer verilmiştir.

5. Kütüphanelerde her kitabın bir yer numarası vardır. Bu numara, aranan kaynağın kolayca bulunmasına olanak sağlar. Bir üniversitenin kütüphanesinde oluşturulan kitap sınıflama sisteminde; ilk sırada konu numarası, ikinci sırada kitap yazarının soyadının ilk üç harfi (Her biri büyük harf olmalı.), üçüncü sırada kitabın basıldığı yıl verilerek yer numarası oluşturulmuştur.

Aşağıdaki tabloda, sözü edilen kitap sınıflama sisteminde kullanılan konu numaraları verilmiştir.

100 Toplum Bilimleri 110 Genel İstatistikler 120 Ekonomi 130 Hukuk 140 Toplumsal Hizmetler ve Dernekler 150 Ticaret ve Taşımacılık	200 Dil ve Dil Bilimi 210 Türk Dili 220 İngilizce ve Eski İngilizce 230 Cermen Dilleri ve Almanca 240 İtalyan, Rumen, Reto-Rumen Dilleri 250 İspanyol ve Portekiz Dilleri
300 Doğa Bilimleri ve Matematik 310 Matematik 320 Astronomi ve İlgili Bilimler 330 Fizik 340 Bitki Bilimleri 350 Hayvan Bilimleri	400 Sanatlar (Güzel Sanatlar) 410 Mimarlık 420 Çizgi Sanatları ve Dekoratif Sanatlar 430 Resim Sanatı 440 Fotoğraf Sanatı 450 Müzik

Örneğin "Türk Dil Bilgisi, Muharrem ERGİN, 2005" şeklinde verilen bir eserin yer numarası şu şekilde oluşturulur: 210.ERG.2005

Buna göre aşağıda adı, yazarı ve basım yılı verilen kitaplardan hangisinin yer numarası yay ayrıç içinde doğru gösterilmiştir?

- A) Ana Çizgileriyle Dilbilim, Doğan AKSAN, 1995 (200.Aks.1995)
B) İstanbul'un Kaybolan Ahşap Konakları, Reha GÜNAY, 2021 (410.GÜN.2021)
C) Geometri, Mustafa Kemal ATATÜRK, 1937 (340.ATA.1937)
D) Yasalar Üzerine, Marcus Tullius CİCERO, 2019 (130.MAR.2019)

6. Bir bilge, krala üç yüz milyon nefes hakkı kaldığını söylemişti. Kral, nefesini uzun süre tutabilmek ve ömrünü uzatmak için çok çalıştı. Son üç nefes hakkı kaldığında artık nefesini beş dakika tutabiliyordu. Önünde sadece on beş dakika, ardında bomboş bir hayat heybesi kalmıştı. Bu şekilde yaşayan ne çok insan var!

Bu parçada anlatılanları en iyi ifade eden dizeler aşağıdakilerin hangisinde verilmiştir?

- A) Dünü, yarını düşünmek hepimizin hatası
Bugünü yaşamak varken bu neyin kaygısı, cefası
- B) Kaynaşır birbirine gün olur zamanlar
Geçmiş, gelecek birleşir tek kesitte
- C) Bu rüzgâr her vakit böyle esmeyecek
Gökte bulut, suda yelken, dalda çiçek
- D) Elde görür hep hatayı kusuru
Çünkü olmuş kibirinin esiri



7. • Milletlerin yaşadıkları coğrafya ve iklim şartları dillerinin yapılanmasında çok etkilidir.
• Bir dilde kullanılan kelimeler o dili kullanan insanların geçim kaynakları hakkında fikir verebilir.
• Farklı dillerde -söyleyişlerinde değişiklikler olsa da- ortak kullanılan kelimeler bulunabilir.

Aşağıdakilerden hangisi bu yargılardan herhangi birinin örneği değildir?

- A) Türkçedeki avlu, aşçı, börek ve misafir sözcüklerinin Boşnakçada avliya, aşçinitsa, burek ve misafir şeklinde kullanılması
- B) Türkçede anne ve babanın erkek kardeşleri için dayı ve amca şeklinde ayrı adlandırmalar yapılırken İngilizcede her ikisinin "uncle" sözcüğüyle karşılanması
- C) Türklerin Orta Asya'dan Anadolu'ya geldikten sonra ahtapot, hamsi, portakal, şeftali gibi sözcükleri dillerine dâhil etmesi
- D) Hayatını hayvancılıkla sürdüren Türklerin, büyükbaş hayvanları buzağı, dana, düve, tosun, inek, boğa gibi sözcüklerle ayrıntılı bir şekilde sınıflandırması

8. Aşağıda bir gazeteci ve yazar arasında geçen konuşmaya yer verilmiştir.

Gazeteci:

(I) — ----

Yazar:

— Çünkü tam da sorgulama yaşındalar. Amacım, “Armut piş, ağzıma düş!” şeklindeki cevaplarla çocukların sorgulama süreçlerini sekteye uğratmadan düşüncelerine yol vermek... Tabii bunun için öncelikle cesur olmamız gerekiyor.

Gazeteci:

(II) — ----

Yazar:

— Sanırım felsefe, yetişkinleri olduğu gibi çocukları da büyülüyor çünkü onların ufuklarını açıyor. Yaşadıkları hayatın bir kereliğine ve geri dönüşsüz bir şekilde planlanmadığını, her şeyin durmaksızın değişip dönüştüğünü gösteriyor. Bu yüzdendir ki eserimin çocuklar tarafından olumlu karşılandığını söyleyebilirim.

Bu konuşmanın akışına göre gazetecinin sorduğu sorular aşağıdakilerin hangisinde sırasıyla verilmiştir?

- A) (I) Hedef kitlenizi hangi ölçütlere göre seçtiniz?
(II) Felsefeye ilgi duymayan çocuklar da kitabınızı sevdi mi?
- B) (I) Çocuklar niçin çok fazla soru sorarlar?
(II) Yetişkinlerden kitabınızla ilgili nasıl tepkiler aldınız?
- C) (I) Kitabınızı neden çocuklara yönelik olarak yazdınız?
(II) Çocukların, eserinize karşı tepkileri nasıl oldu?
- D) (I) Çocukların sorgulamak için neye ihtiyaçları var?
(II) Felsefe, çocukları nasıl etkiliyor sizce?

9. (I) Muş'un Malazgirt İlçesi'nde bir araya gelen otuz akademisyen, Malazgirt Savaşı'nın yapıldığı alanı belirlemeye çalışıyor. (II) Bu kapsamda gerçekleştirilen kazı çalışmalarının bu yıl ki bölümü başladı. (III) Alanında uzman akademisyenler, ilçeye 7 km uzaklıktaki Afşin Mahallesi'nde çalışmalar yaptı. (IV) Geçmişte yapılan kazılar da çeşitli savaş aletleri ortaya çıkararak uzmanlar, çalışmaların üçüncü yılında önemli bulgular elde etmeyi hedefliyor.

Bu parçada numaralanmış cümlelerin hangisinde yazım yanlışı yoktur?

- A) I B) II C) III D) IV

10. Hasan Ali Yücel, Yakup Kadri Karaosmanoğlu hakkında şunları söylemiştir (I) “İstirap, Yakup Kadri'nin bütün hayatında zekâsını ve duygusunu keskinleştirdi. Eserlerindeki ve hayatındaki şimşekler (II) daha çok elektrik yüklü bulutların çakışlarıdır (III) Bu hâl onu hiçbir zaman somurtkan bir insan yapmamıştı çünkü Yakup Kadri'nin içi hayat doludur (IV) hareket doludur.”

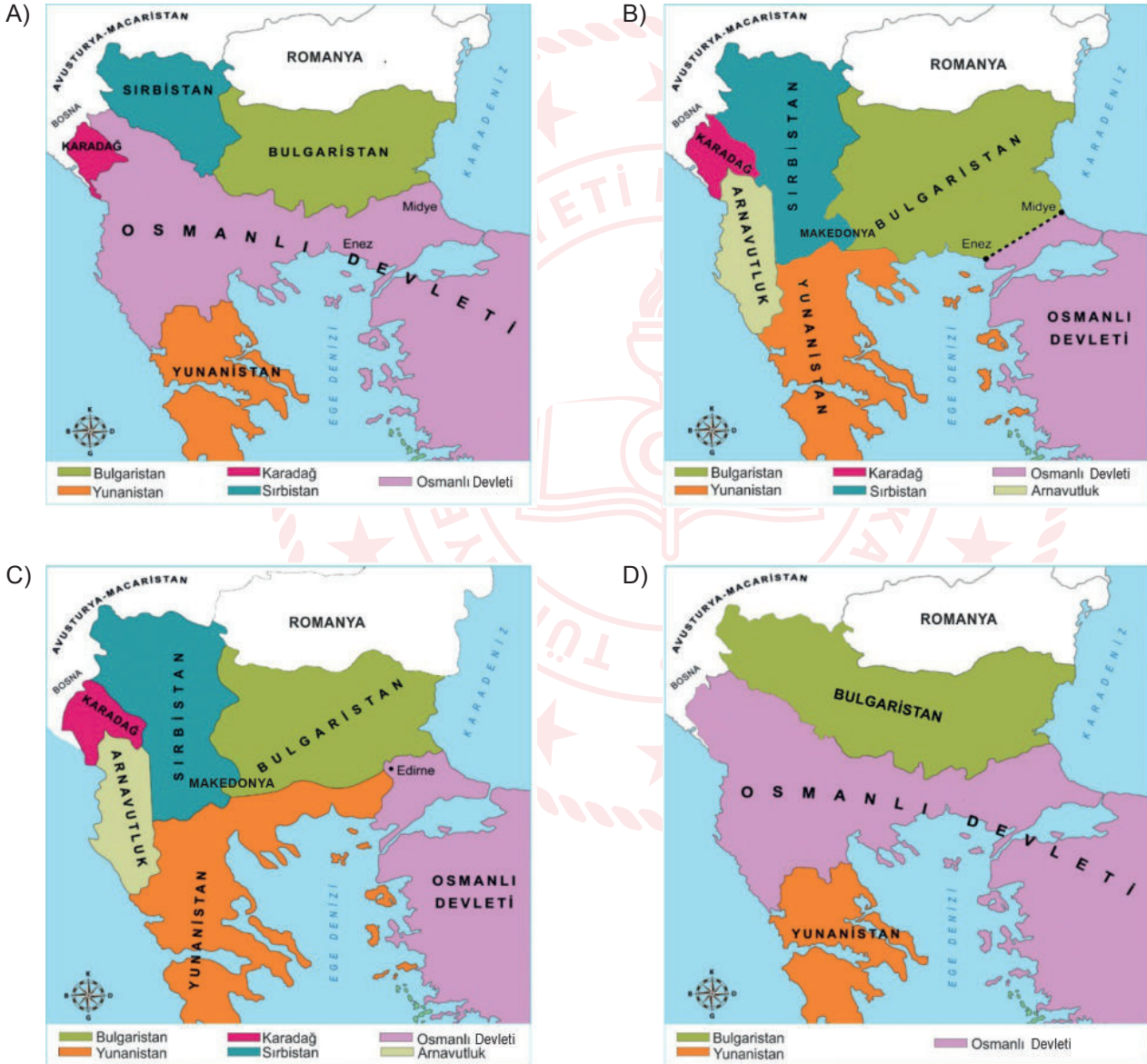
Bu parçada numaralanmış yerlerden hangisine iki nokta (:) getirilmelidir?

- A) I B) II C) III D) IV

T.C. İnkılap Tarihi ve Atatürkçülük Örnek Soruları

1. Balkan Savaşları öncesi Batı Trakya, Makedonya, Arnavutluk ve Doğu Trakya Osmanlı Devleti'nin egemenliğindeydi. Karadağ'ın saldırısıyla başlayan I. Balkan Savaşı'nda; Sırbistan, Bulgaristan ve Yunanistan'ın da savaşa katılması birlikte Osmanlı Devleti kısa sürede yenilgiye uğradı. Sonuç olarak Osmanlı Devleti ve Balkan devletlerinin sınırları değişti. Osmanlı Devleti; Makedonya, Arnavutluk ve Batı Trakya gibi Balkan toprakları ile Ege adalarının büyük bir kısmını kaybetti.

Bu bilgiye göre aşağıdaki haritalardan hangisi Balkan Savaşları öncesi Osmanlı Devleti'nin sınırlarını göstermektedir?



2. İngiltere başbakanı Lloyd George II. İnönü Savaşı'ndan sonra bir Yunan bankacıyla yaptığı konuşmada şunları söyledi; "Artık bir Yunanlının fotoğrafını bile görmek istemiyorum. Sizin subaylarınız bana zafer için güvence vermişlerdi. Kendi danışmanlarıma değil, sizin hayalci subaylarınıza inandım. Ama az önce öğrendim ki o kadar güvendiğim Yunan ordusu, üç ay içinde ikinci kez yenilmiş. Bu başarısızlığınız beni çok zor duruma soktu. İngiltere'nin egemenliği altında çok Müslüman var. Türk zaferi hepsine örnek olabilir... Bunun için Yunan ordusuna güveniyordum. Hükümetim, ordunuzu donatmış, ayrıca 16 milyon sterlin yardım yapmıştı."

Bu parçadan aşağıdaki yargıların hangisine ulaşamaz?

- A) İngiltere, Anadolu'yu işgal eden Yunan ordusunu desteklemiştir.
B) Türk ordusunun zaferi, İngilizlerde endişeye neden olmuştur.
C) İnönü Savaşları, Türk birliklerinin başarısıyla tamamlanmıştır.
D) İngilizler İnönü Savaşlarından sonra işgal ettiği yerlerden çekilmişlerdir.

3. Millî Mücadele Dönemi Doğu Cephesi komutanı Kazım Karabekir Paşa, Ermenistan ile imzalanan Gümrü Antlaşması'nın içeriğini şu sözlerle açıklamıştır:

"Ermeni heyeti ile Gümrü Antlaşması'nı görüşmeye başladık. 27 Kasım'da Ermenilere Sevr Antlaşması'ndaki imzalarını geri aldık. Bugünü bu uğursuz antlaşmanın yırtıldığı gün olarak kutladık. Bu olayı Ankara'ya müjdeledim. 2-3 Aralık gecesi Gümrü Antlaşması'nı imzaladık. Antlaşma şartı olarak Ankara'nın istediği 2 bin tüfek, 3 batarya, 12 dağ topu, 40 makineli tüfeği Ermenilerden aldım. Doğu Cephesi'nin ilk armağanı olarak Batı Cephesi'ne ulaştırılmak üzere yola çıkardım."

Bu metne göre Gümrü Antlaşması ile ilgili,

- I. Doğu sınırları kesin şeklini almıştır.
II. Doğu Cephesi'nde siyasi başarı elde edilmiştir.
III. Batı cephesindeki Türk ordusuna silah desteği sağlanmıştır.

yargılarından hangilerine ulaşılabilir?

- A) I ve II B) I ve III C) II ve III D) I, II ve III

4. “Düşman ordusuyla aramızda büyük bir açıklık bırakmak gerekir ki orduyu derleyip toparlamak ve güçlendirmek mümkün olabilsin. Bunun için Sakarya'nın doğusuna kadar çekilmek yerinde olur. Düşman bizi takip ederse kendi harekât üssünden uzaklaşacak ve yeniden menzil hatları kurmaya mecbur olacak, birçok güçlkle de karşılaşacaktır. Buna karşılık bizim ordumuz toplu bulunacak ve daha elverişli şartlara sahip olacaktır. Bu şekildeki geri çekilişimizin en büyük sakıncası, Eskişehir gibi önemli yerlerimizi ve birçok toprağımızı düşmana bırakmaktan dolayı kamuoyunda doğabilecek manevi sarsıntıdır. Fakat kısa zamanda elde edebileceğimiz başarılı sonuçlarla bu sakıncalar kendiliğinden ortadan kalkacaktır.”

Mustafa Kemal, bu sözleriyle aşağıdakilerden hangisini amaçlamış olamaz?

- A) Büyük Taarruz için hazırlıkları tamamlamak
B) Yunan ordusunu ana karargâhından uzaklaştırmak
C) Türk ordusunun daha fazla kayıp vermesini önlemek
D) Türk ordusunun toparlanması için zaman kazandırmak

5.

6. Ekim 1919'da Sivas'ta bulunduğu sırada, Kilikya bölgesindeki Fransız işgal kuvvetlerinin ve Ermenilerin yaptıkları taşkınlıkları ve zulmü haber alan Mustafa Kemal, Develi'ye (Kayseri), aşağıdaki gizli telgrafi çekmiştir:

“Develi Belediye Reisliğine,

Anadolu ve Rumeli Müdafaa-i Hukuk Cemiyeti Temsil Heyeti, Kilikya Kuva-yı Milliye Komutanlığına Binbaşı Kemal Bey'i, yardımcılığına da Yüzbaşı Osman Nuri Bey'i atadı. Millî görevlerinin devamı süresince Kemal Bey, Kozanoğlu Doğan Bey takma adını; Osman Bey de Aydınoğlu Tufan Bey takma adını kullanacaktır. Millî görevlerinde her türlü yardımlarınızı esirgememenizi önemle rica ederiz.”

Anadolu ve Rumeli Müdafaa-i Hukuk Cemiyeti
Temsil Heyeti namına Mustafa Kemal

Bu telgraftan Temsil Heyeti ile ilgili;

- I. Yürütme organı gibi hareket ettiği,
II. Düzenli ordunun kuruluş çalışmalarını tamamladığı,
III. İşgalcilerle yapılacak mücadelede gizliliğe önem verdiği

çıkarımlarından hangileri yapılabilir?

- A) I ve II B) I ve III C) II ve III D) I, II ve III

Din Kültürü ve Ahlak Bilgisi Örnek Soruları

1. Dağlardan akan sular kendi yataklarını kendileri oluşturur. En az direnç gösteren yolu seçer akmak için. Önüne bir kaya çıkacak olursa onunla mücadele ederek vakit kaybetmez, kayanın etrafından dolanarak devam eder akmaya. Böylece sayısız etken tarafından şekillenerek bulur yolunu. İnsanlar da akarsular gibi ancak kendi çabalarının sonuçlarını elde ederler. İstediklerini elde etmek için birçok yolu hiç çekinmeden denerler. Ama bilirler ki önüne ne kadar set konulursa konulsun neticede mutlaka olacak olan olur ve hayat, yolunu bulur. Eskiler şöyle der bu yüzden: “Önüne çıkan hiçbir engele takılıp kalma. Eğer takılırsan orada kalırsın. Etrafından dolanıp devam et yoluna.”

Aşağıdaki kavramlardan hangisi bu metin ile ilişkili değildir?

- A) Cüzi irade B) Emek C) Ecel D) Kader

2. İslam dinine göre sadaka-i cariye'nin sevabı, onu yapan kişinin vefatından sonra da devam eder. Sadaka-i cariye kavramını, etkisi devam eden kalıcı iyilik ve hayır işleri olarak tanımlamak mümkündür.

Buna göre Hz. Peygamber'in;

- I. kendi mal varlığıyla satın aldığı araziye, Mescid-i Nebi'nin yapımına bağışlaması,
- II. sütanesi Halime'ye ve onun ailesine maddi destek sağlaması,
- III. Taif ziyareti dönüşünde Addas adındaki kişiye ikramda bulunması


davranışlarından hangileri doğrudan sözü edilen kavram kapsamında değerlendirilebilir?



- A) Yalnız I B) I ve III C) II ve III D) I, II ve III

3. “Din kolaylıktır. Dinin sınırlarını aşmak isteyen kimse, ona yenik düşer. O hâlde orta yolu tutunuz, en iyiyi yapmaya çalışınız. O zaman size müjdeler olsun.” (Hadis)

Bu hadisteki altı çizili ifadeyle anlatılmak istenen duruma aşağıdaki ayetlerin hangisinde değilmemiştir?

- A) “Eli sıkı olma, büsbütün eli açık da olma. Sonra kınanır ve çaresiz kalırsın.” (İsrâ suresi, 29. ayet)
- B) “Ey iman edenler! Allah'ın size helal kıldığı iyi ve temiz nimetleri kendinize haram etmeyin...” (Mâide suresi, 87. ayet)
- C) “Allah, göğü yükseltti ve mizanı koydu. Öyleyse sakın taşkınlık edip ölçüyü bozmayın!” (Rahmân suresi, 7 ve 8. ayetler)
- D) “Onlara, ‘Allah'ın indirdiğine uyun.’ denildiğinde ‘Hayır! Biz, atalarımızdan gördüğümüze uyarız.’ derler.” (Bakara suresi, 170. ayet)

4.  **Ev Kazalarını Önle, Hayatı Öncele!**

  <p>Prizlerin kapağı olmalı ve bu prizler çocuklar için emniyetli hâle getirilmelidir.</p>	  <p>İlaç ve temizlik ürünleri üst dolaplarda olmalı, orijinal şişelerinin dışına aktarılmamalıdır.</p>	  <p>Zemin, kaygan yapıda olmayan malzemelerle döşenmelidir.</p>
  <p>Dolap, televizyon, kitaplık gibi ev eşyaları sabitlenmelidir.</p>	  <p>Tamir aletleri ve mutfak eşyaları, kullanım sonrası ortada bırakılmamalıdır.</p>	

Bu görselin, “İslam dininde korunmasına önem verilen temel haklar” kapsamında değerlendirilmesini isteyen Derya Öğretmen’in,

- I. “...Kendi elinizle kendinizi tehlikeye atmayın.” (Bakara suresi, 195. ayet) ayetinin mesajı, bu önlemlerin ana nedenini oluşturmaktadır.
- II. Bineğini bağlayıp mı yoksa bağlamadan mı tevekkül etmesi gerektiğini soran birine Hz. Peygamber’in, “Önce onu bağla, sonra Allah’a tevekkül et!” demesi, bu önlemlerin alınmasıyla aynı doğrultudadır.
- III. “Tasarruf eden sıkıntı görmez.” hadisinde belirtilen sorunu yaşamamak için bu önlemlerin alınması gerekir.

yorumlarından hangilerini doğru olarak kabul etmesi beklenir?

- A) Yalnız I B) I ve II C) II ve III D) I, II ve III

5. “Dua edilmeye layık olan odur. Onun dışında el açıp dua ettikleri şeyler, onların hiçbir isteğini karşılayamazlar. Onlar ancak ağzına gelsin diye iki avucunu suya doğru açıp yalvaran kimse gibidir. Hâlbuki bu yoldan su asla onun ağzına gelecek değildir.” (Ra’d suresi, 14. ayet)

Bu ayette “dinin korunması” ile ilgili aşağıdaki ilkelerden hangisi vurgulanmaktadır?

- A) Kulluğu Allah’a has kılmak
B) İbadet hakkına saygı duymak
C) Dini, temel kaynaklardan öğrenmek
D) İnanç hususunda baskıdan kaçınmak

► Yabancı Dil (İngilizce) Örnek Soruları

1. William and his friends play a game. Each of them chooses one of the cards below and answers the question on it. Here are the questions and their answers:

I.

Do you prefer eating at home or in a restaurant?

II.

What is your favourite restaurant?

III.

Is there any food that you can't stand?

IV.

Can you tell me a bad experience you had in a restaurant?

William: I don't want to spend time cooking, so I usually eat out.

John : Last year, I went to a famous and expensive restaurant. I still remember the terrible taste of the pizza they served.

Robert : People should eat more vegetables and fresh fruit to be healthy.

Sam : Sausage! Its taste and smell is unbearable for me.

Whose answer does NOT match any of the questions given on the cards?

- A) William's B) Sam's C) Robert's D) John's

2. Amy works at the call center of an international company. Her job is to answer customers' phone calls and to note down their messages. Here are the notes she took yesterday:

Jack

His phone is broken, and he would like to buy a new one.

Dean

He bought an electrical device, and he didn't like it. He wants to return it.

Nicole

She bought a TV. She couldn't connect it to the Internet, so she asks our service to do it.

Sally

She bought a new laptop, but its screen was broken. She wants to send it back.

Emily

She bought a new computer and thanked us for sending it on time.

According to the notes above, which two customers talk to Amy for the same purpose?

- A) Jack and Nicole B) Dean and Sally C) Nicole and Emily D) Sally and Emily

3. Karl reads the phone conversation below, and he tries to correct its order.

Rebecca: (I) Hello, it's Rebecca speaking. May I speak to Ellie, please?
Olivia: (II) She will be at home in the afternoon.
Rebecca: (III) Can I learn when she will be back?
Olivia: (IV) I'm sorry but she is not at home at the moment.
Rebecca: (V) OK, thanks a lot.

Which of the following should Karl change to put the statements of the phone conversation in the correct order?

- A) I and III B) II and III C) II and IV D) IV and V

4. Emily talks to Russel on the phone to buy a train ticket.

Russel : Hello, Russel is speaking. How can I help you?
Emily : Hi, I'd like to buy a train ticket from Florence to Rome for May 23, please.
Russel : What time do you want to leave?
Emily : I should be there at 7 p.m.
Russel : It takes 4 hours to go there, so you can take the 1 p.m. or 2 p.m. train.
Emily : OK, 2 p.m. is better for me. How much is the ticket?
Russel : It is \$45.
Emily : OK, could you send the ticket by an email?
Russel : Sure. Can I learn your name and your email address?
Emily : Emily Williams, emily@williams.com. Thank you very much.

According to the conversation above, which of the following is Emily's ticket?

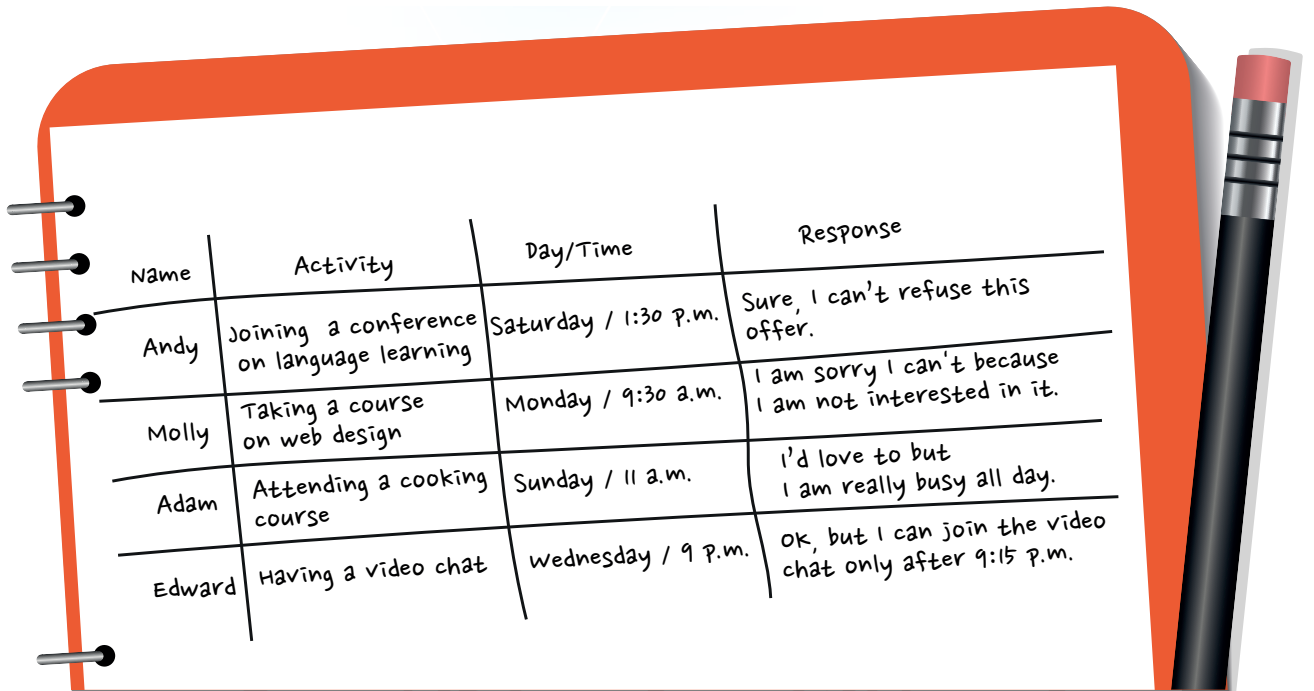
A)  Train ticket Florence-Rome
Emily Williams
May 25 • 1-5 p.m.
\$45

B)  Train ticket Florence-Rome
Emily Williams
May 23 • 2-5 p.m.
\$45

C)  Train ticket Florence-Rome
Emily Williams
May 23 • 1-5 p.m.
\$40

D)  Train ticket Florence-Rome
Emily Williams
May 23 • 2-6 p.m.
\$45

5. George invites his classmates to online activities on different days and takes notes of their responses:



Name	Activity	Day/Time	Response
Andy	Joining a conference on language learning	Saturday / 1:30 p.m.	Sure, I can't refuse this offer.
Molly	Taking a course on web design	Monday / 9:30 a.m.	I am sorry I can't because I am not interested in it.
Adam	Attending a cooking course	Sunday / 11 a.m.	I'd love to but I am really busy all day.
Edward	Having a video chat	Wednesday / 9 p.m.	OK, but I can join the video chat only after 9:15 p.m.

Which of the following is **CORRECT** according to George's notes?

- A) Andy does not like attending conferences.
- B) Molly accepts George's invitation to take online classes.
- C) Adam is available only on Sunday afternoon.
- D) Edward does not refuse attending the video chat.

CEVAP ANAHTARI

TÜRKÇE

1. C
2. B
3. D
4. A
5. B
6. A
7. B
8. C
9. C
10. A

T.C. İNKILAP TARİHİ VE ATATÜRKÇÜLÜK

1. A
2. D
3. C
4. A
5. B

DİN KÜLTÜRÜ VE AHLAK BİLGİSİ

1. C
2. A
3. D
4. B
5. A

YABANCI DİL (İNGİLİZCE)

1. C
2. B
3. C
4. D
5. D



Soruların çözüm videosunu izlemek için karekodu okutabilirsiniz.